
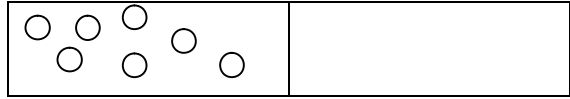
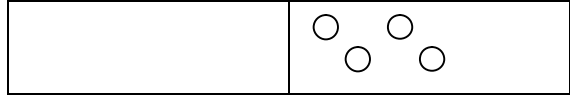

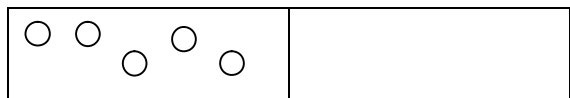
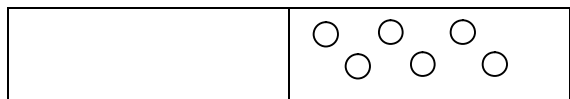


التاريخ:-----

أوراق عمل للصف الأول

الاسم:-----

(1) أكمل بالرسم وجد المضاف الناقص:-

$\boxed{4} + \boxed{} = \boxed{7}$	
$\boxed{7} + \boxed{} = \boxed{7}$	
$\boxed{} + \boxed{4} = \boxed{10}$	
$\boxed{1} + \boxed{} = \boxed{9}$	
$\boxed{5} + \boxed{} = \boxed{8}$	
$\boxed{} + \boxed{6} = \boxed{6}$	

(2) أكتب الحقائق الأساسية للعدد "8" :-

$$\boxed{} + \boxed{} = 8$$

$$\boxed{} + \boxed{} = 8$$

$$8 = \boxed{} + \boxed{}$$

$$8 = \boxed{} + \boxed{}$$

(3) أكتب <، > أو = :-

$$2 + 2 \quad \underline{\hspace{2cm}} \quad 3 + 3$$

$$4 + 0 \quad \underline{\hspace{2cm}} \quad 0 + 4$$

$$6 + 7 \quad \underline{\hspace{2cm}} \quad 6 + 5$$

$$4 + 9 \quad \underline{\hspace{2cm}} \quad 4 + 2$$

$$10 \quad \underline{\hspace{2cm}} \quad 5 + 5$$

(4) أ- إذا كنت تعرف كم يساوي $4 + 4$ فهل بإمكانك أن تعرف كم يساوي $4 + 5$ ؟

ب- إذا كنت تعرف كم يساوي $5 + 5$ فهل بإمكانك أن تعرف كم يساوي $5 + 6$ ؟

(5) أكمل الناقص :-

$$4 + \underline{\hspace{2cm}} < 10$$

$$3 + \underline{\hspace{2cm}} > 6$$

$$\underline{\hspace{2cm}} + \underline{\hspace{2cm}} = 8$$

$$\underline{\hspace{2cm}} + \underline{\hspace{2cm}} > 10$$

(6) حل التمارين الآتية:-

$4 = 3 + \square$

$8 = \square + 6$

$2 + 6 = \square$

$7 + 1 = \square$

$9 = 7 + \square$

$8 = \square + 5$

$1 + 9 = \square$

$6 + 0 = \square$

$6 = 1 + \square$

$10 = \square + 5$

$0 + 5 = \square$

$6 + 2 = \square$

(7) - هل 3 مع 2 أكبر من 8؟

ب- هل 5 مع 5 أكبر من 8؟

ج- هل 4 مع 4 أكبر من 8؟

د- هل 2 مع 4 أكبر من 8؟
