


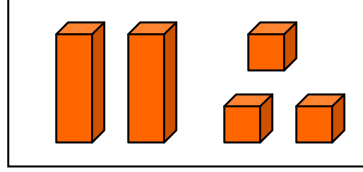
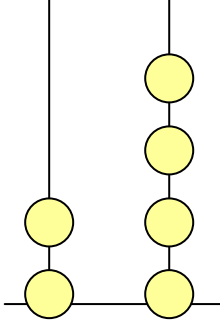
التاريخ: _____

الاسم: _____

إختبار تشخيص للصف الثاني

في معرفة الأعداد الطبيعية

1) أكتب العدد الملائم للمجموعة: -



2) أكتب العدد 13 بالكلمات: _____

3) أكتب العدد أربعة وعشرون بالأرقام: _____

4) ضع دائرة حول رقم العشرات: 68 36 25

5) ضع دائرة حول رقم الآحاد: 87 32 13

6) في أي منزلة يقع الرقم 3 في العدد 34: _____

7) عد وأكتب الأعداد من 38 حتى 47: _____

13) أكتب العدد السابق للعدد 30 : _____

14) أكتب العدد التالي للعدد 49 : _____

15) أكتب عددًا أكبر من 12 بـ 5 : _____

16) أكتب عددًا أصغر من 17 بـ 8 : _____

17) أكتب عددًا يقع بين 20 و 30 ورقم آحاده 5 : _____

18) أكتب عددًا ثنائي المنزلة رقم آحاده 2 : _____

19) أكتب عددًا ثنائي المنزلة رقم آحاده أكبر من رقم عشراته : _____

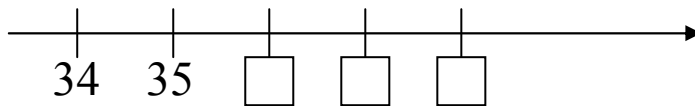
20) أكتب العدد الناقص في كل متوالية :-

24 , 25 , 26 , _____ , _____ , _____

19 , 18 , 17 , _____ , _____ , _____

27 , 28 , _____ , _____ , _____ , 32 , 33

21) أكتب الأعداد الناقصة على مستقيم الأعداد :-



22) أكتب العدد الناقص لتصح الإشارة :-

12 < _____ < 12

أتمنى لك النجاح المتفوق