
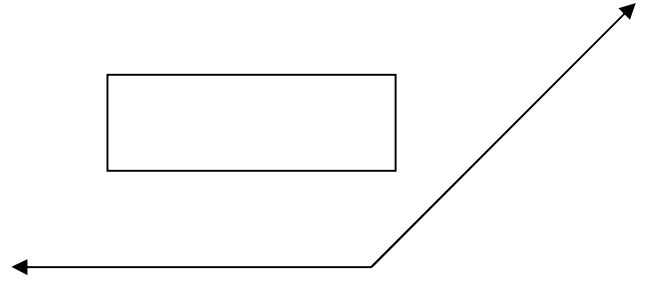
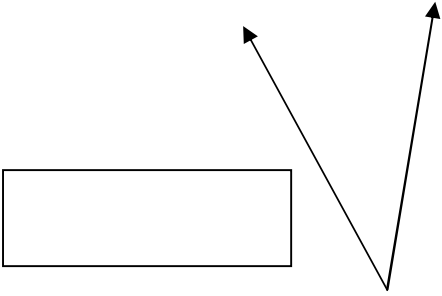
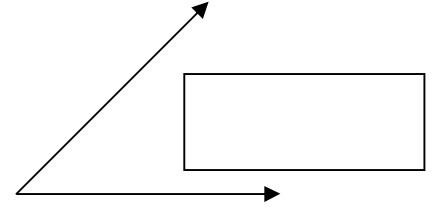
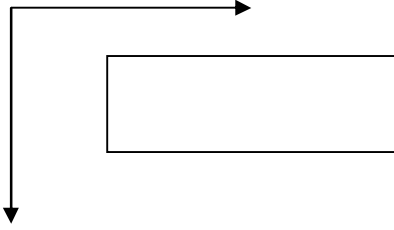


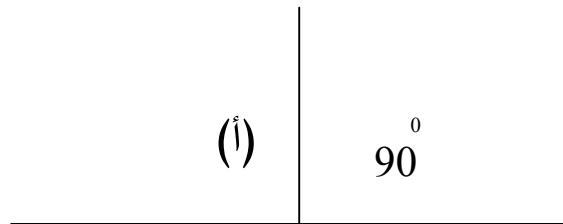
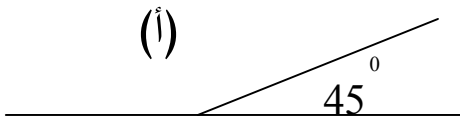
الاسم: _____

اختبار هندسة للصف الخامس

(1) سجّل نوع كل زاوية من الزوايا الآتية:-

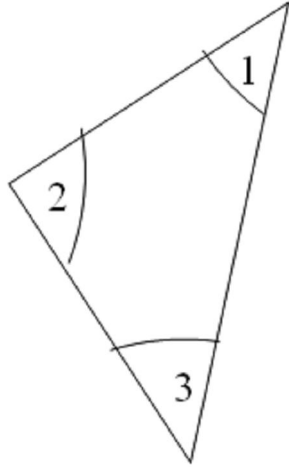


(2) جد مقدار الزاوية المشار إليها بالحرف (أ):-



3) أيّ زاوية من زوايا المثلث هي زاوية قائمة.

أحط بدائرة الإجابة الصحيحة:-

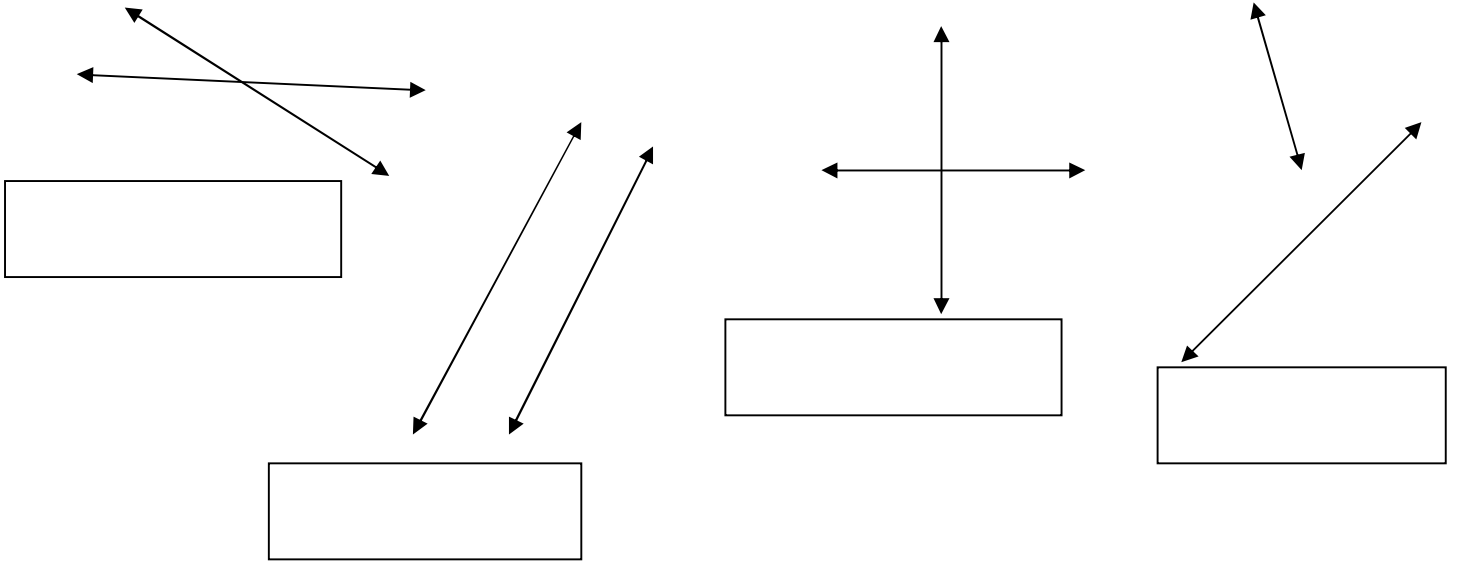


أ- الزاوية 1

ب- الزاوية 2

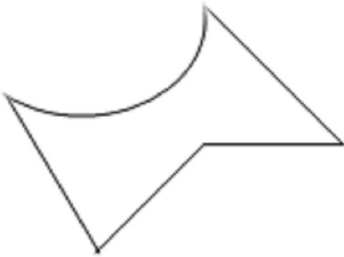
ج- الزاوية 3

4) سجّل بجانب كل زوج من المستقيمت: متوازيان، متعامدان، متقاطعان
(انتبه: بعض الأزواج لها جوابان)

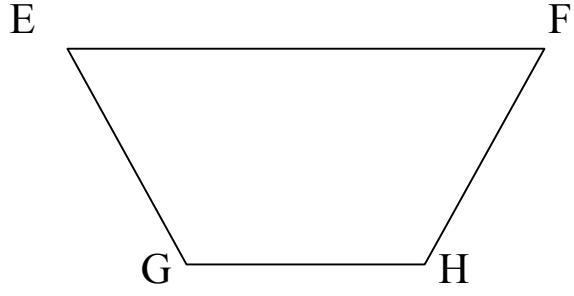
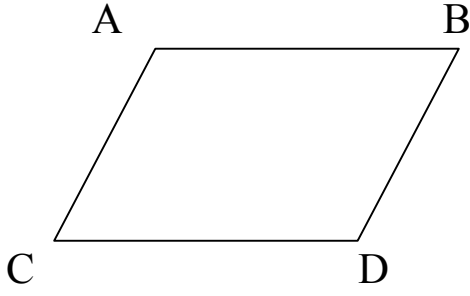


5) هل هذا الشكل مضلع? _____

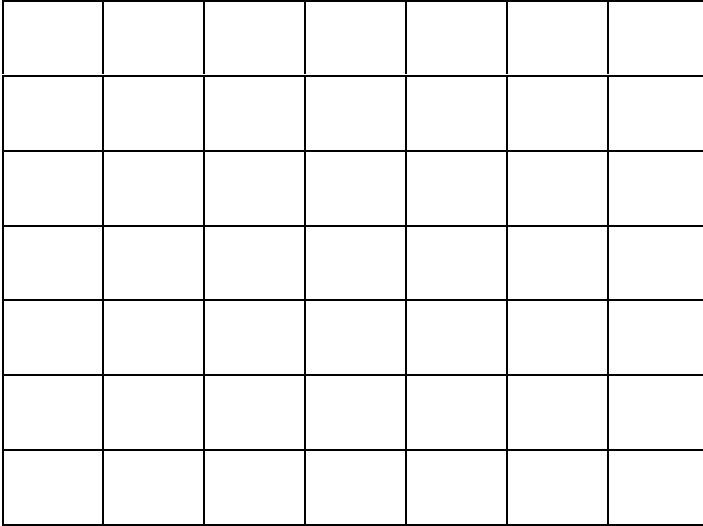
اشرح لماذا: _____



5) أكتب كافة القطع المستقيمة المتوازية في كل شكل:-



6) عيّن النقاط المعطاة على هيئة المحورين، ثم صل بينها لتكوّن شكلاً.



$(1,5) - (3,5) - (5,4) - (6,2) - (3,1) - (1,1)$

مع تمنياتي لكم بالنجاح المتفوق