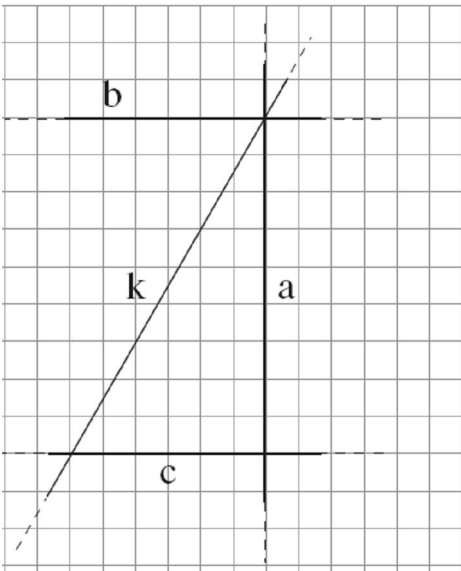

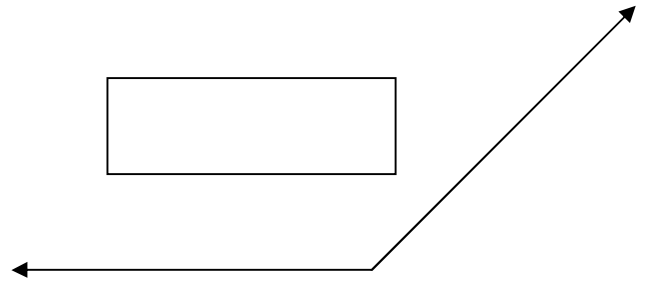
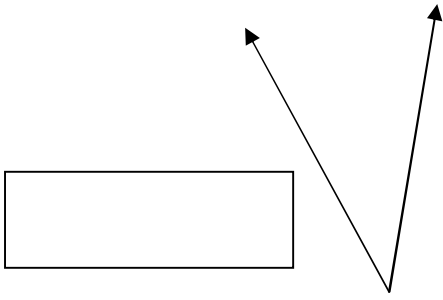
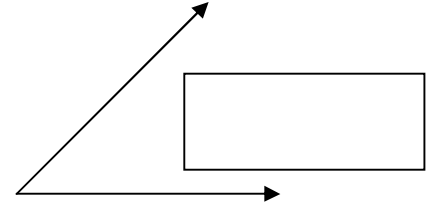
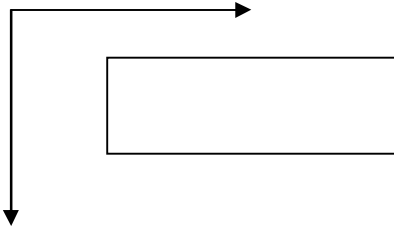


(1) سجّل نوع كل زاوية من الزوايا الآتية:-



(2) تمعّن في الرسم وانتبه إلى المستقيمت

المشار إليها بالحروف ثم أكمل الناقص:

أ. المستقيم الموازي للمستقيم b

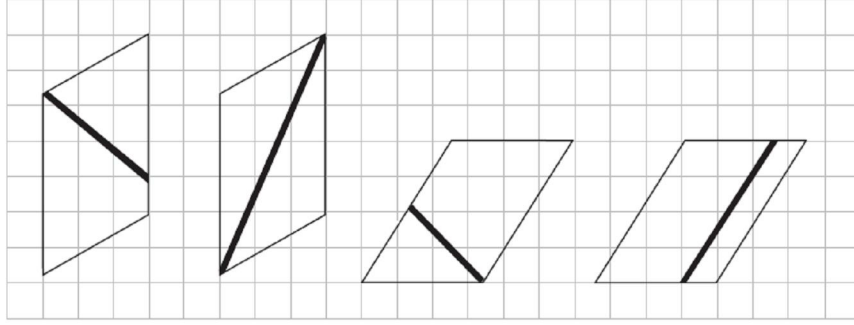
مشار إليه بالحرف _____ .

ب. المستقيم الذي يُعَامِد

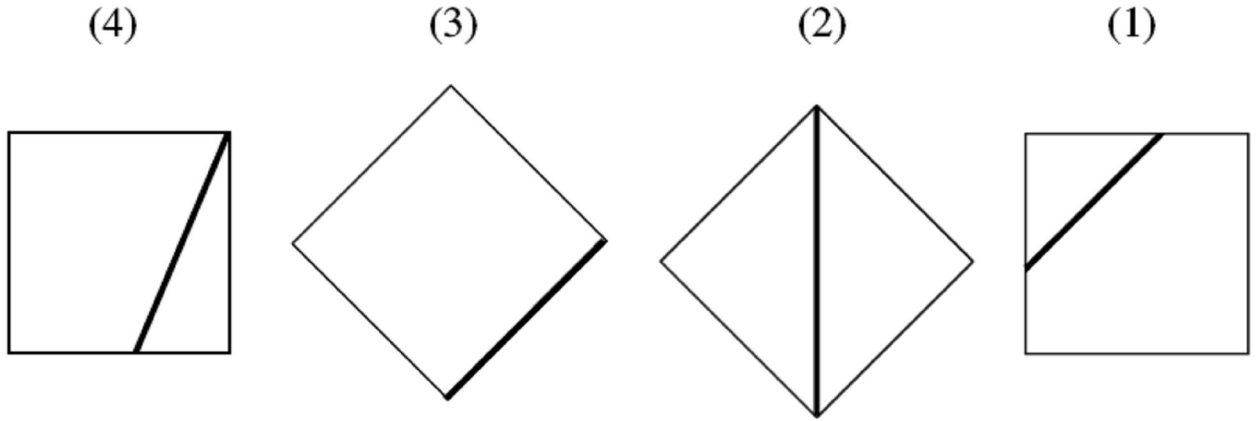
المستقيم b مشار إليه

بالحرف _____ .

(3) حوِّط الشكل الذي فيه الخط الغامق هو القطر في متوازي الأضلاع:



(4) شر إلى المربع الذي فيه القطعة المكثفة (المشددة) هي القطر:-



أكتب تعريف القطر: _____

B

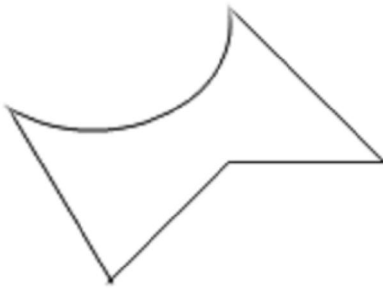
(5) أي عصاً من العصي التالية أطول من العصا التي طولها متر واحد?
حوِّط الإجابة الصحيحة:-

ج- عصاً طولها 200 سم
د- عصاً طولها 200 ملم

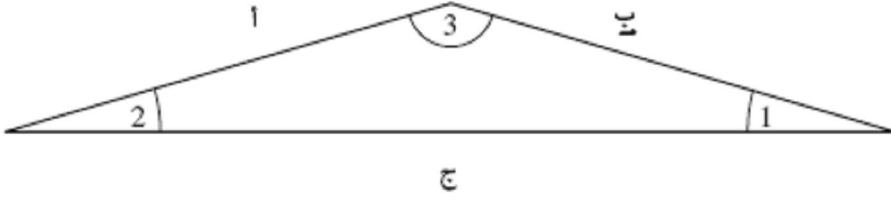
أ- عصاً طولها 150 ملم
ب- عصاً طولها 50 سم

(6) هل هذا الشكل مضلع? _____

اشرح لماذا: _____

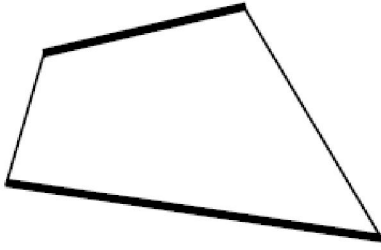


7) أمامك مثلث منفرج الزاوية. أي زوايا المثلث هي الزاوية المنفرجة؟
حوّط الاجابة الصحيحة:-



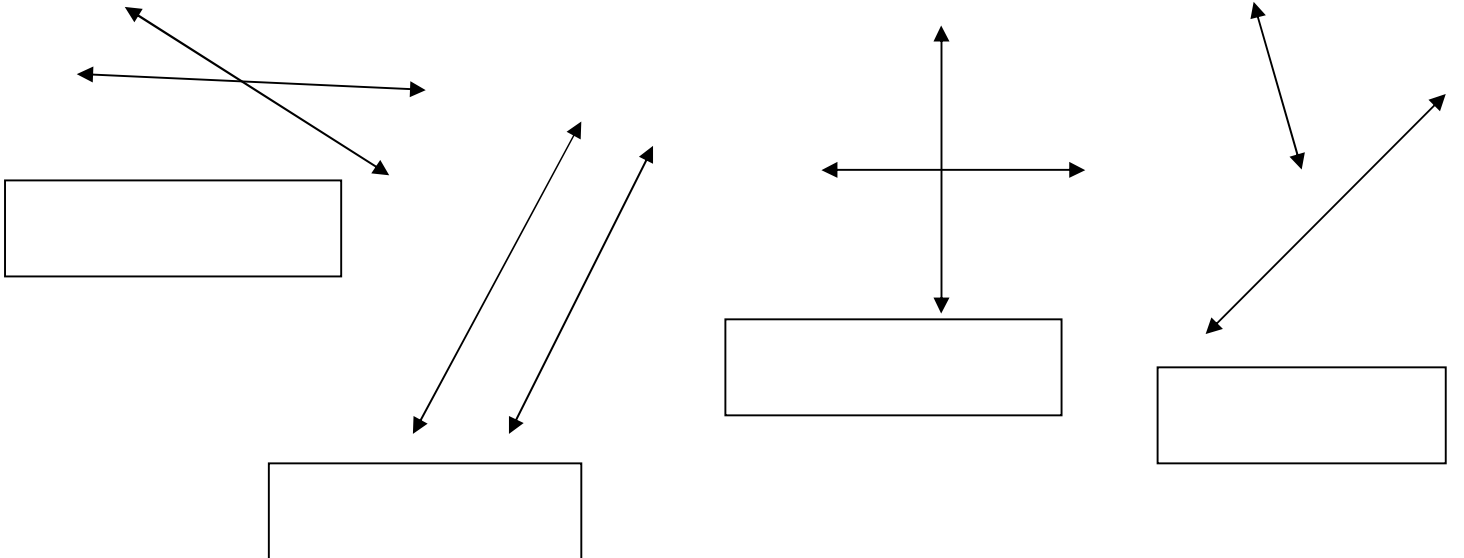
- أ- الزاوية 1
ب- الزاوية 2
ج- الزاوية 3

8) تمعّن في الشكل الرباعي الذي أمامك وأشر إلى الجملة الصحيحة:-



- أ- الضلعان المكثفان متوازيان
ب- الضلعان المكثفان هما ضلعان متجاوران
ج- الضلعان المكثفان هما ضلعان متقابلان
د- الضلعان المكثفان متساويان

9) سجّل بجانب كل زوج من المستقيمات: متوازيان، متعامدان، منقطعان
(انتبه: بعض الأزواج لها جوابان)



أتمنى لك النجاح المتفوق

نيفا مسعد