

التاريخ: _____

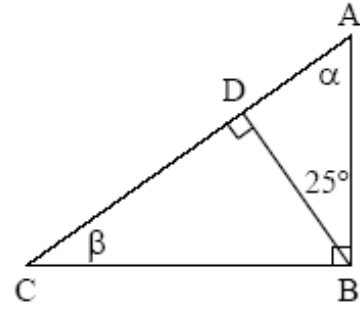
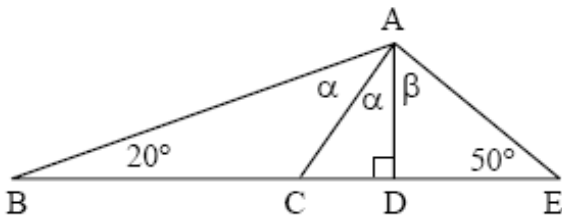
اختبار في الزوايا

الاسم: _____

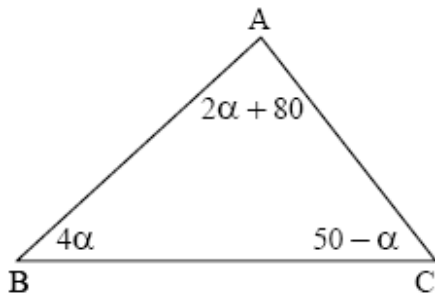
للف الصف الثامن

سؤال رقم (1) :-

في كل واحدٍ من المثلثين التاليين، احسب α و β .



سؤال رقم (2) :-



- (أ) احسب α .
(ب) احسب زوايا المثلث.
(ج) على أي نوعٍ من أنواع المثلثات حصلت؟ اشرح.

سؤال رقم (3) :-

في كل واحد من الرسومات احسب α , β , γ :-

