

# امتحان الفصل الأول في الرياضيات للسف الثالث

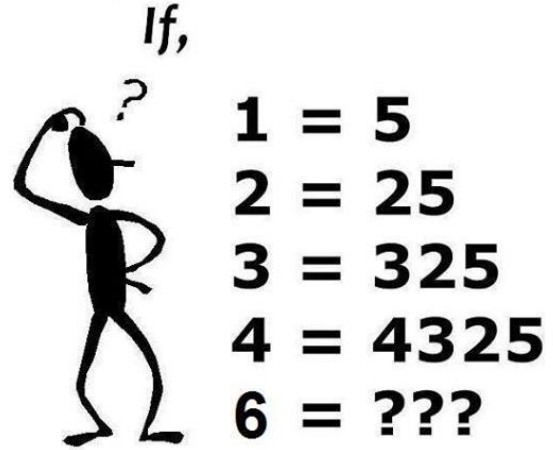
الصف والشعبة: \_\_\_\_\_

اسم الطالب/ة: \_\_\_\_\_

ملاحظة: ممنوع استعمال الآلة الحاسبة



الزمن: ساعة ونصف



مع تمنياتي لكم بالنجاح المتفوق

السنة الدراسية: 2017/2018

1) حلّ التمارين الآتية :-

(9 علامات)

$1458 + 543 = \underline{\hspace{2cm}}$	$3458 - 1204 = \underline{\hspace{2cm}}$
$6705 - 4258 = \underline{\hspace{2cm}}$	$1000 - 279 - 308 = \underline{\hspace{2cm}}$
$487 + 255 - 190 = \underline{\hspace{2cm}}$	$234 + 9 + 75 = \underline{\hspace{2cm}}$

2) حلّ المعادلات الآتية ، وبيّن طريقة حلّك :-

(9 علامات)

$425 + \underline{\hspace{2cm}} = 678$	$243 = \underline{\hspace{2cm}} - 590$
$825 - \underline{\hspace{2cm}} = 432$	$950 = 50 + \underline{\hspace{2cm}}$
$\underline{\hspace{2cm}} + 621 = 879$	$\underline{\hspace{2cm}} - 132 = 732$

3) أكمل الناقص :-

(9 علامات)

$150 + \underline{\hspace{2cm}} > 200$	$1010 > 1000 + \underline{\hspace{2cm}}$	$\underline{\hspace{2cm}} + 300 < 350$
$500 - \underline{\hspace{2cm}} < 250$	$\underline{\hspace{2cm}} > 540 - 40$	$\underline{\hspace{2cm}} - 200 < 50$

(8 علامات)

4) أكتب تمريناً مناسباً ثمّ حلّه :-

أ- معطى أن المطروح هو 560 والباقي هو 132.

ما هو المطروح منه؟ الجواب: \_\_\_\_\_

ب- معطى أن أحد المضافين هو 403 وحاصل الجمع 678.

ما هو المضاف الآخر؟ الجواب: \_\_\_\_\_

ج- معطى أن المطروح منه 743 والباقي هو 523.

ما هو المطروح؟ الجواب: \_\_\_\_\_

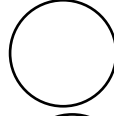
د- معطى أن المضاف الأول هو 544 والمضاف الثاني هو 321.

ما هو حاصل الجمع؟ الجواب: \_\_\_\_\_

(6 علامات)

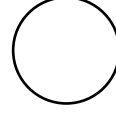
5) ضع اشارة > ، < او = :-

أ)  $150 + 130$




$140 + 140$

ب)  $208 - 8$



$210 - 8$

ج)  $360 - 120$



$360 - 110$

(6 علامات)

6) أكتب تمرينًا مناسبًا ثم جد الجواب :-

أ- بكم يزيد العدد 4123 عن العدد 4023؟

---

---

ب- معطى العددين 5640 و 2649، ما هو الفرق بينهما؟

---

---

ج- بكم يقلّ العدد 324 عن العدد 543؟

---

---

7) أ- مع سلوى 456 بنورة. سلوى جمعت أكثر من فارس بـ 199 بنورة.

(علامتان)

كم بنورة جمع فارس؟

---

---

(علامتان)

ب- ذهبت منال إلى الدكان وصرفت 225 شاقلاً.

بقي لديها 142 شاقلاً.

كم شاقلاً كان معها في البداية؟

---

---

(علامتان)

ج- في الصندوق 765 تفاحة حمراء وخضراء.

عدد التفاح الأخضر 398 تفاحة.

ما هو عدد التفاح الأحمر؟

---

---

(علامتان)

د- جمعت لينا 312 طبعة.

وجمعت سيرين 212 طبعة.

أما نادرة فجمعت 219 طبعة.

كم طبعة جمعت لينا وسيرين ونادرة معاً؟

---

---

(سؤال بنونوس)

$$\underline{\hspace{2cm}} + 3213 = 3203 + 1010$$

كل عام وانتم بالف خير